

À mon tour

1  Écris la forme de chaque objet.

Utilise les mots suivants.

cube


pavé droit

boule


cylindre


pyramide

cône



pavé droit



2  Compte chaque type de solide et complète.

0 cube

2 cylindres

..... boule

..... pavé droit

..... pyramide

..... cônes

